



**ВИКТОРИНА
ПО ПРАВИЛАМ ДОРОЖНОГО ДВИЖЕНИЯ
СРЕДИ УЧАЩИХСЯ 3-5 КЛАССОВ**

1. Какой стороны должны придерживаться пешеходы при движении по тротуару?



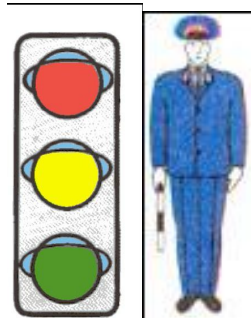
1. Правой
- 2.левой
3. Пешеход выбирает сам

2. Можно ли пассажиру-ребенку стоять в салоне легкового автомобиля?



1. Можно, если позволяет рост
2. Нельзя, это опасно
3. Можно. Водитель, перевозя ребенка, всегда едет аккуратно

3. Кому подчиняются пешеходы, если перекресток регулируется одновременно светофором и регулировщиком?



1. Светофору
2. Регулировщику

4. Какой сигнал регулировщика соответствует красному сигналу светофора для пешеходов?


1. Регулировщик обращен к пешеходу левым боком
2. Регулировщик обращен к пешеходу правым боком
3. Регулировщик обращен к Пешеходу спиной

5. Этот дорожный знак:



1. Предупреждает, что здесь ведутся дорожные работы
2. Запрещает движение транспорта и пешеходов

6. Можно ли пешеходу переходить дорогу в такой ситуации, чтобы успеть на автобус?



1. Да, водители видят пешехода и остановят транспорт
2. Нет, нельзя переходить перед идущими близко автомобилями

1. Для движения пешехода предназначены:



1. Проезжая часть, обочины, тротуары, пешеходные дорожки
2. Тротуары, обочины и пешеходные дорожки
3. Тротуары и пешеходные дорожки, а в случае их отсутствия - обочины

2. Какой жест регулировщика соответствует желтому сигналу светофора?



1. Правая рука регулировщика поднята вверх
2. Обе руки вытянуты в стороны
3. Правая рука вытянута вперед

3. В каких местах следует переходить через проезжую часть после выхода из троллейбуса?



1. Сзади троллейбуса
2. Впереди троллейбуса
3. По пешеходному переходу

4. Этот дорожный знак:



1. Запрещает движение пешеходов
2. Информировывает о завершении пешеходной дорожки

5. Так случилось, что вы попали в дорожную аварию. Травмы оказались вам незначительными.

Как вы должны поступить?

1. Попросить водителя, чтобы он отвез вас домой
2. Настоять на том, чтобы водитель вызвал сотрудников ГИБДД, «Скорую помощь» и не покидать места происшествия
3. побыстрее убежать с места аварии

6. Безопасно ли начинать переход в такой ситуации?




1. Да, так как пешеход идет по переходу
2. Нет, проехавшая машина закрывает обзор

1. Где безопаснее идти пешеходам вне населенного пункта?



1. По левой обочине дороги
2. По правой обочине дороги
3. По любой

2. На светофоре одновременно включены красный и желтый сигналы. Что это означает?



1. Движение пешеходам запрещено. Скоро будет включен красный сигнал
2. Движение пешеходам запрещено. Скоро будет включен зеленый сигнал

3. Обязаны ли пассажиры в транспорте, имеющем ремни безопасности, пользоваться ими?



1. Только по требованию водителя
2. Только при выезде за пределы населенного пункта
3. Да, обязательно

4. Этот дорожный знак



1. Указывает место стоянки транспорта
2. Обозначает место ремонта транспорта

5. Зимой при очистке снега у переходов может появиться снежный вал. Как должен поступить пешеход, собираясь перейти дорогу:

1. Спуститься со снежного вала на дорогу и подождать, пока проедут автомобили
2. Остановиться на снежном валу. Дождаться, когда машины пройдут, и спуститься для перехода
3. Остановиться на тротуаре, чтобы случайно не поскользнуться. Подождать, пока проедут машины, и затем перейти дорогу

6. Пешеход подходит к переходу, когда грузовой автомобиль уже начинает пересекать его. Есть ли опасность для пешехода, если он сразу начнет переход дороги?



1. Нет, пешеход стоит на тротуаре и пропускает машину
2. Да, машина закрывает прицеп. Пешеходу нельзя торопиться с переходом

1. Какие требования необходимо выполнять велосипедисту, двигаясь на велосипеде по дорогам?




1. Иметь навыки управления
2. Быть в мотошлеме и наколенниках
3. Иметь водительское удостоверение
4. Иметь навыки управления и быть не младше 14 лет

2. Если на городской улице нет тротуара, где следует идти пешеходу?




1. По проезжей части
2. По обочине

3. Можно ли переходить перекрестки через центр по диагонали?



1. Да, время перехода сокращается, пешехода видят все водители
2. Нет, безопасно идти только по пешеходному переходу
3. Можно, если нет автомобилей

4. Какой дорожный знак указывает место остановки троллейбуса?



А

Б

1. Знак А
2. Знак Б
3. Оба знака

5. Светофор с вызывным устройством. Вы нажали кнопку, но сигналы не сменились. Ваши действия.

1. Надо дождаться включения зеленого сигнала
2. Можно переходить через дорогу, так как светофор неисправен
3. Посмотреть на взрослых, и перейти вместе с ними

6. Как должен поступить пешеход, чтобы не попасть в эту ситуацию?



1. Подождать, пока автобус отойдет от остановки
2. Идти более быстрым шагом
3. Обойти автобус спереди

1. С какого возраста детям разрешается находиться на переднем сиденье легкового автомобиля?



1. С 12 лет
2. С 14 лет
3. С любого возраста

2. Как правильно перейти загородную дорогу после выхода из автобуса?



1. Обойти автобус сзади
2. Обойти автобус спереди
3. Подождать, когда автобус отойдет от остановки

3. При каком положении регулировщика разрешено переходить улицу?



1. Регулировщик обращен к пешеходу левым боком, рука поднята вверх
2. Регулировщик обращен к пешеходу правым боком, рука поднята вверх
3. Регулировщик обращен к пешеходу правым боком, руки опущены

4. Какие дорожные знаки обозначают место перехода дороги?



А Б В Г

1. Все знаки
2. Знаки А, Б и Г
3. Знаки Б, В, Г
4. Только знак Б

5. Автомобиль движется задним ходом. Действия пешехода.

1. Необходимо остановиться на расстоянии и подождать, пока транспорт проедет
2. Следует поскорее пройти перед движущимся автомобилем
3. Идти можно, не опасаясь: водитель внимательно наблюдает за обстановкой через зеркала и обязан всех пропустить

6. Грузовая машина остановилась, пропуская пешехода. Пешеход начал переход. Какую ошибку он допустил?



1. Пешеход сделал все правильно, нарушил только водитель легкового автомобиля
2. Пешеход, пройдя грузовой автомобиль, должен убедиться: пропускают ли его другие водители

1. Где может пешеход перейти улицу (дорогу), если вблизи нет обозначенного пешеходного перехода?



1. В любом месте
2. В том месте, где дорога хорошо просматривается в обе стороны
3. На перекрестках по линии тротуаров или обочин

2. На транспортном светофоре горит зеленый сигнал, а на пешеходном – красный. Может ли пешеход переходить через дорогу?



1. Да
2. Нет

3. Как определить, что автомобиль начинает движение задним ходом?

1. Водитель подает звуковой сигнал
2. Сзади автомобиля включены небольшие фары белого цвета
3. Сзади автомобиля загораются огни красного цвета

4. О какой опасности предупреждает участников движения этот знак?

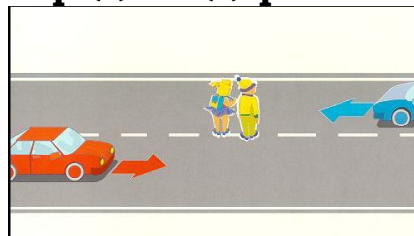


1. Железнодорожный переезд без шлагбаума
2. Железнодорожный переезд со шлагбаумом
3. Пересечение с трамвайной линией

5. Трамвайные пути проходят посередине проезжей части. Пешеходам разрешается...


1. Выходить к месту остановки трамвая уже при его приближении, чтобы не задерживать других
2. Выходить только после того, как трамвай остановится и откроет двери
3. Ожидать трамвай, стоя на проезжей части

6. Какую опасную ошибку, приводящую к аварии, чаще всего допускают стоящие на середине дороги пешеходы?



1. Смотрят только в сторону приближающихся машин
2. Отступают назад

1. Опасно ли начинать переход дороги перед идущим близко автомобилем?



1. Да, автомобиль нельзя остановить мгновенно
2. Нет, если быстро перебежать

2. У многих остановок общественного транспорта сделано расширение дороги - «карманы». Могут ли пешеходы ожидать транспорт, стоя в таком «кармане»?


1. Да, «карман» - это место для ожидания транспорта
2. Нет, «карман» сделан для заезда транспорта

3. Как безопасно обойти стоящий на остановке трамвай?



1. Спереди
2. Сзади
3. Надо подождать, когда трамвай отойдет от остановки

4. Какой знак устанавливается у пересечения с трамвайной линией?



- А**
1. Знак А
 2. Знак Б
 3. Знак В

Б

В

5. У стоящего на обочине автомобиля мигает левый сигнал поворота. Что это обозначает?



1. Водитель начинает движение от обочины
2. Водитель просто забыл выключить сигнал
3. Водитель предупреждает других участников движения, что его автомобиль неисправен

6. Правильно ли выбрал мальчик место для перехода дороги?



1. Да
2. Нет

1. Основные элементы дороги – это:

1. Обочина, кювет, тротуар.
2. Пешеходный переход, дорожное ограждение, обочина.
3. Проезжая часть, тротуар, разделительная полоса, трамвайные пути и обочины.

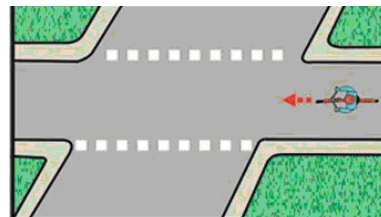
2. В чем отличие дороги с односторонним движением от дороги с двусторонним движением?

1. По всей ширине проезжей части транспорт движется в одном направлении
2. Транспорт движется навстречу друг другу
3. Дороги ничем не отличаются

3. Опасно ли пассажиру трамвая, троллейбуса, автобуса прислоняться к закрытой двери?

1. Нет. Двери закрыты, пассажир находится в безопасности
2. Да. Двери могут случайно открыться во время движения

4. Что означает эта дорожная разметка?




1. Место перегона животных.
2. Место пересечения велосипедной дорожки с проезжей частью.
3. Пешеходный переход.

5. Можно ли переходить дорогу возле припаркованных автомобилей?



1. Нет, это опасно
2. Да, опасности нет

6. Пешеход решил перейти дорогу перед стоящим автобусом. Опасно ли это?



1. Да, это очень опасная ситуация: водитель автобуса и машины могут не заметить пешехода
2. Нет, не опасно, если пешеход, пройдя мимо автобуса, остановится и посмотрит налево

1. На улице с двусторонним движением...

1. Транспортные средства движутся в одном направлении
2. Транспортные средства движутся навстречу друг другу
3. Для движения транспорта предусмотрены две полосы

2. Элемент дороги, отделяющий тротуар от проезжей части.




1. Газон
2. Парапет
3. Бордюр

3. Может ли представлять опасность для пешехода стоящий на проезжей части автомобиль?



1. Да. За ним может быть не виден идущий автомобиль
2. Нет. Пешеход может спокойно переходить дорогу

4. Какой знак сообщает о расположенной недалеко больнице?




А

Б

1. Знак А
2. Знак Б
3. Оба знака

5. Разрешается ли пешеходу переходить дорогу в этом месте?



1. Да, разрешается
2. Нет, запрещается

6. С какой стороны можно ожидать появления автомобиля?



1. Только справа.
2. Только слева.
3. С любой стороны.

1. Пешеходный переход – это...



1. Участок для движения пешеходов через дорогу
2. Участок для движения пешеходов
3. Место пересечения проезжей части и тротуара

2. Как Вы думаете, почему правила поведения в транспорте обязывают пассажиров входить через заднюю, а выходить через переднюю двери автобуса, троллейбуса?

1. Водителю проще наблюдать за посадкой и высадкой пассажиров
2. Кондуктору удобнее взимать плату с пассажиров
3. В целях безопасности: входящие и выходящие пассажиры не мешают друг другу

3. У автомобилей задние фонари разного цвета. О чем предупреждают пешехода включенный белый фонарь?



1. Автомобиль движется с прицепом
2. Автомобиль стоит в темное время суток
3. Автомобиль движется задним ходом

4. Какой знак запрещает движение всего транспорта в связи с дорожным происшествием, аварией, пожаром?




1. Знак А
2. Знак Б
3. Оба знака

5. Остановка - на противоположной стороне. Стоит нужный вам автобус. По дороге идут автомобили. Как поступить?

1. Поторопиться и перебежать через дорогу
2. Не спешить на автобус, а безопасно перейти улицу
3. Привлечь внимание водителей идущих автомобилей, чтобы они остановились

6. Кому из пешеходов можно переходить дорогу при этом сигнале регулировщика?



1. Пешеходу, который обозначен, красным цветом
2. Пешеходу, который обозначен, синим цветом
3. Обоим пешеходам
4. Никому

1. Автомобили специальных служб оборудованы проблесковым маячком:



1. Красного цвета
2. Синего цвета
3. Желтого цвета

4. Какой дорожный знак устанавливается над специальной полосой, выделенной для движения пешеходов?



А



Б



В

1. Знак А
2. Знак Б
3. Знак В

2. Пассажиру в автобусе следует уступить место



1. Взрослым с маленькими детьми
2. Инвалидам
3. Пожилым людям
4. Всем перечисленным пассажирам

5. Во время перехода дороги в целях безопасности пешеходу следует смотреть



1. Под ноги
2. По сторонам
3. На других пешеходов

3. Пешеходами могут быть

1. Только взрослые люди
2. Люди всех возрастов
3. Взрослые и дети старше 7 лет ходом

6. Организованная пешая колонна детей может передвигаться



1. По тротуарам
2. По проезжей части
3. По любому участку дороги

1. К пешеходному переходу приближается автомобиль с включенным проблесковым маячком желтого цвета.

Пешеходу необходимо



1. Убедиться, что водитель автомобиля пропускает пешеходов, и перейти дорогу
2. Необходимо воздержаться от перехода в любом случае
3. Поступить так, как делают рядом стоящие люди

2. Автобус полностью не остановился, а водитель уже открыл дверь. Выходящий пассажир...

1. Может выйти, если скорость очень маленькая
2. Обязан дождаться полной остановки автобуса
3. Выходить можно, так как водитель знает, когда следует открывать дверь

3. Обязан ли человек, передвигающийся по улицам верхом на лошади, соблюдать правила дорожного движения?



1. Да, обязан
2. Нет, следует быть просто осторожным
3. Движение верхом на лошади по дорогам общего пользования запрещено

4. Разрешается ли движение пешеходов по полосе, обозначенной этим дорожным знаком?



1. Разрешается в любом случае
2. Разрешается при отсутствии тротуара или пешеходной дорожки
3. Не разрешается

5. Разрешается ли движение пешеходов по обочине при наличии рядом тротуара?



1. Нет, запрещается
2. Да, разрешается
3. Да, разрешается в случае невозможности двигаться по тротуару

6. Организованная пешая колонна детей может передвигаться




1. В любое время суток с соблюдением мер безопасности
2. Только в светлое время
3. В светлое время, а в темное - по дорогам с искусственным освещением

1. К светофору приближается колонна автомобилей в сопровождении автомобиля ГИБДД с включенным проблесковым маячком и специальным звуковым сигналом. Пешеходу необходимо

1. Пропустить только патрульный автомобиль
2. Перейти на свой разрешающий сигнал светофора
3. Пропустить всю колонну независимо от сигнала светофора

2. При выходе из трамвая на остановке, которая находится на середине проезжей части, пассажир



1. Должен убедиться в безопасности
2. Может выходить, так как водители обязаны пропустить пешеходов на данном участке
3. Должен выходить вместе со всеми, это безопасно

3. Являются ли рабочие, производящие ремонтные работы на проезжей части, участниками дорожного движения



1. Да
2. Нет
3. Зависит от вида производимых работ

4. Этот дорожный знак...



1. Запрещает движение на велосипедах
2. Информировывает о завершении велосипедной дорожки
3. Обозначает место пересечения велосипедной дорожки с дорогой

5. В населенном пункте при отсутствии тротуара пешеходу безопаснее идти




1. По левой обочине навстречу транспорту
2. По правой обочине по ходу движения транспорта
3. По любой обочине

6. Взрослые, сопровождающие организованную пешую колонну детей, должны иметь в руках



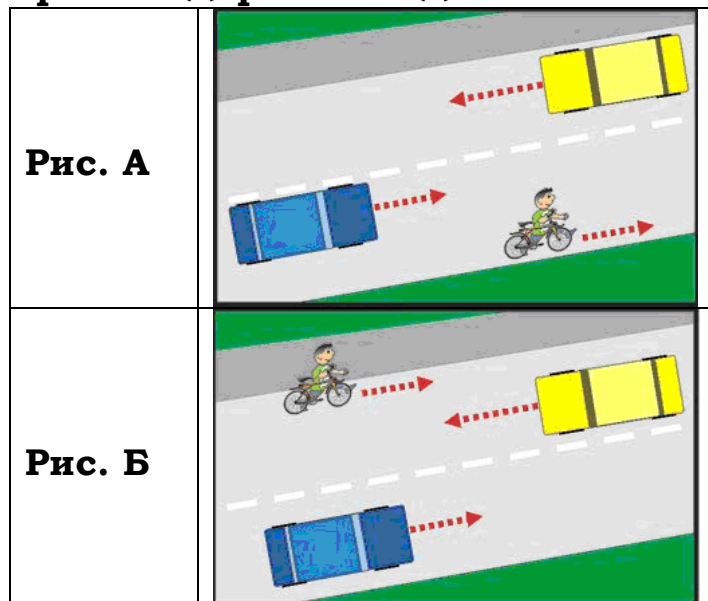
1. Фонари, впереди колонны - белого цвета, сзади - красного
2. Флажки красного цвета
3. Флажки, впереди колонны - белого цвета, сзади - красного

1. Транспортному средству с включенным синим маячком и специальным звуковым сигналом должны уступить дорогу:



1. Пешеходы
2. Водители
3. Все участники дорожного движения


2. На каком рисунке пешеход, ведущий велосипед, соблюдает правила дорожного движения?



3. Участники дорожного движения - это

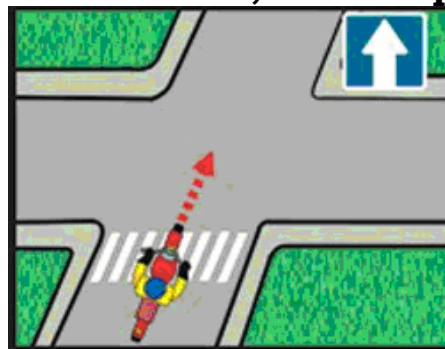
1. Водители
2. Водители и пешеходы
3. Водители, пассажиры, пешеходы
4. Водители, пассажиры, пешеходы, регулировщик

4. Этот дорожный знак называется:



1. «Круговое движение»
2. «Кольцевое движение»
3. «Движение по кругу»

5. Этот дорожный знак показывает, что впереди:



1. Движение возможно только направо.
2. Дорога с односторонним движением.

6. Взрослые, сопровождающие организованную пешую колонну детей, должны иметь в руках:



1. Спереди колонны
2. Спереди и сзади колонны
3. Спереди или сзади колонны, если требует ситуация

1. На автомобилях специальных служб возможно сочетание проблесковых маячков



1. Синего и красного цветов
2. Синего и желтого цветов
3. Синего и зеленого цветов

2. Пассажиры автобуса могут выходить из него



1. При остановке на светофоре
2. На остановочных площадках
3. Во всех перечисленных случаях

3. Обязаны ли пассажиры соблюдать правила дорожного движения?



1. Только по требованию водителя
2. Да, обязаны
3. Нет, не обязаны

4. Этот дорожный знак:



1. Запрещает водителям пользоваться звуковыми сигналами
2. Запрещает всем участникам дорожного движения шуметь
3. Рекомендует водителям не включать аудиоаппаратуру

5. Стоящий грузовой автомобиль



1. Можно обойти спереди
2. Следует обойти сзади
3. Выходить на дорогу из-за стоящего грузовика нельзя

6. Организованная пешая колонна детей может пересекать проезжую часть



1. По пешеходному переходу
2. В любом месте под руководством сопровождающих
3. Только в местах установки светофоров

1. Чаще всего участниками дорожно-транспортных происшествий становятся дети -

1. Пешеходы
2. Пассажиры
3. Велосипедисты

2. Может ли пешеход перейти дорогу, где пешеходный переход не обозначен соответствующими знаками?



1. Да, может – это пешеходный переход
2. Нет, не может – пешеходный переход не достроен

3. Разрешается ли стоять пассажирам во время движения в кузове грузового автомобиля?



1. Да, при наличии высоких бортов
2. Да, при движении с небольшой скоростью
3. Запрещается

4. Этот дорожный знак:



1. Запрещает движение транспорта и пешеходов
2. Обязывает пропустить самолеты
3. Предупреждает о низколетящих самолетах

5. Кто имеет преимущество в движении?



1. Пешеход.
2. Автомобиль

6. При организованной перевозке группы детей экскурсионным или школьным автобусом

1. Дети могут ехать сидя и стоя
2. Все дети должны сидеть, разрешается посадка двух детей на одно место
3. У каждого ребенка должно быть свое сиденье

1. Нарушение правил движения, из-за которого дети-пешеходы чаще всего попадают в дорожно-транспортные происшествия

1. Игра возле дороги
2. Переход проезжей части в неустановленном для этого месте
3. Переход проезжей части на запрещающий сигнал светофора

2. Может ли пешеход перейти участок дороги с газоном посередине?




1. Да, может
2. Да, может при отсутствии рядом пешеходных переходов и перекрестков
3. Нет, не может

3. Разрешается ли перевозка пассажиров в прицепе трактора?



1. Нет, запрещается
2. Да, разрешается
3. Да, разрешается при поездке на небольшие расстояния

4. О каком опасном участке предупреждает участников движения этот знак?



1. Железнодорожный переезд без шлагбаума
2. Железнодорожный переезд со шлагбаумом
3. Пересечение с трамвайной линией

5. Ученики 3-5 классов могут кататься на велосипеде




1. По тротуарам
2. На тихих улицах
3. В парках и других закрытых территориях
4. На всех перечисленных участках

6. Какой знак крепится на передней и задней части экскурсионного или школьного автобуса, осуществляющего организованную перевозку группы детей?



А



Б



В

1. А
2. Б
3. В

1. Дети чаще попадают в дорожно-транспортные происшествия




1. На незнакомой территории вдали от дома или школы
2. На знакомой территории возле дома или школы
3. Расстояние от дома или школы не имеет значения

2. Знаки «Пешеходный переход». Пешеход может переходить




1. Только между знаками
2. С любой стороны от знака, но не далее 5 метров от него
3. Между знаками и не далее 1 метра с левой стороны

3. Какой жест регулировщика соответствует красному сигналу светофора?



4. Какой дорожный знак информирует о расположении по пути следования места отдыха?



- А Б В**
1. Знак А
 2. Знак Б
 3. Знак В

5. Человек, катающийся на роликовых коньках, подчиняется правилам дорожного движения

1. Для пешеходов
2. Для водителей
3. Это зависит от того места, где он катается

6. При организованной перевозке группы детей экскурсионным или школьным автобусом взрослые сопровождающие должны находиться

1. Возле выходов
2. Рядом с водителем
3. Возле самых беспокойных детей

1. В какое время года дети чаще попадают в дорожно-транспортные происшествия?

1. Летом
2. Зимой
3. Осенью или весной

4. Этот дорожный знак информирует о расположении специального поста



1. Дорожно-постовой службы милиции
2. Дорожно-патрульной службы Госавтоинспекции

2. Разметка, обозначающая место перехода дороги называется




1. Пешеходная дорожка
2. Пешеходный переход
3. Направление для движения пешеходов

5. Могут ли ученики 3-х – 5-х классов перевозить пассажиров на велосипеде?



1. Да, могут
2. Да, могут на дополнительном сиденье с подножками
3. Нет, не могут

3. Разрешается ли перевозка пассажиров в прицепе автомобиля?



1. Не разрешается
2. Да, разрешается
3. Да, разрешается при наличии места для сидения

6. При организованной перевозке группы детей экскурсионным или школьным автобусом посадка и высадка детей осуществляется

1. С разрешения водителя
2. Под руководством сопровождающих взрослых
3. Самостоятельно

1. В какое время суток происходит больше всего дорожно-транспортных происшествий с участием детей?

1. В утренние часы
2. В обеденное время
3. В вечернее время

4. Какой из дорожных знаков информирует о расположении на пути следования объекта с питьевой водой?



А

Б

1. Знак А
2. Знак Б
3. Оба знака

2. Может ли пешеход перейти участок дороги с ограждением посередине?



1. Нет, не может
2. Да, может при отсутствии рядом пешеходных переходов и перекрестков
3. Да, может

5. Для чего можно использовать багажник велосипеда?



1. Для перевозки грузов
2. Для перевозки грузов и пассажиров
3. Для перевозки пассажиров при наличии подножек

3. Разрешается ли перевозка пассажиров в грузовом кузове мотоцикла или мотороллера?



1. Да, разрешается, если водитель установил там сиденье
2. Да, разрешается, если сидеть не выше бортов
3. Нет, запрещается

6. При организованной перевозке группы детей экскурсионным или школьным автобусом детям запрещается

1. Открывать окна
2. Ходить по салону
3. Выбрасывать мусор в форточки
4. Осуществлять все перечисленные действия

Таблица ответов

№ п/п	1	2	3	4	5	6
Билет 1	1	2	2	3	1	2
Билет 2	3	1	3	1	2	2
Билет 3	1	2	3	1	3	2
Билет 4	4	2	2	2	1	1
Билет 5	1	3	3	2	1	2
Билет 6	3	2	2	1	2	2
Билет 7	1	2	3	3	1	2
Билет 8	3	1	2	2	1	1
Билет 9	2	3	1	1	1	2
Билет 10	1	3	3	2	2	2
Билет 11	2	4	2	2	2	1
Билет 12	1	2	1	2	3	2
Билет 13	3	1	2	1	1	2
Билет 14	3	Рис. А	3	1	2	2
Билет 15	1	2	2	1	3	1
Билет 16	1	1	3	3	1	3
Билет 17	2	3	1	2	3	3
Билет 18	2	1	2	3	1	1
Билет 19	1	2	1	2	3	2
Билет 20	3	1	3	2	1	4

Комментарий к билетам по правилам дорожного движения для учащихся 3 – 5 классов

Билет № 1

1) Ответ № 1. В Российской Федерации на дорогах установлено правостороннее движение транспортных средств (п.1.4 ПДД). Пешеход, идущий по правой стороне тротуара по направлению движения транспорта, имеет лучшую возможность наблюдать за дорожной ситуацией. Он хорошо видит встречные машины, их действия. А от попутного транспорта его отделяет некоторое расстояние.

2) Ответ № 2. Салон легкового автомобиля не предназначен для перевозки стоящих пассажиров. Ребенок, стоя в салоне автомобиля, даже в случае, когда его поддерживают, при резком торможении, разгоне, повороте может упасть и получить травмы.

3) Ответ № 2. Водители и пешеходы должны выполнять требования и распоряжения регулировщика, даже если они противоречат сигналам светофора (п.6.15 ПДД).

4) Ответ № 3. Во всех случаях, когда регулировщик подает сигналы, со стороны спины движение всех транспортных средств и пешеходов запрещено (п.6.10 ПДД). Красный сигнал светофора для пешеходов также запрещает им переходить проезжую часть.

5) Ответ № 1. Дорожный знак 1.25 «Дорожные работы» относится к группе предупреждающих. Знак предупреждает водителей о приближении к опасному участку, где проводятся дорожные работы (Приложение 1 к ПДД).

6) Ответ № 2. В такой ситуации переходить дорогу нельзя. Во-первых, здесь нет пешеходного перехода. Во-вторых, все внимание пешехода сосредоточено на противоположной стороне дороги, где стоит его автобус. Поэтому он не смотрит по сторонам, а ведь транспорт движется и находится от пешехода на близком расстоянии. Водитель не сможет мгновенно остановить автомобиль.

БИЛЕТ № 2

1) Ответ № 3. Пешеходы должны двигаться по тротуарам и пешеходным дорожкам, а при их отсутствии – по обочинам (п.4.1 ПДД).

2) Ответ № 1. Желтый сигнал светофора запрещает движение. В случае, когда рука регулировщика поднята вверх, движение всех транспортных средств и пешеходов запрещено во всех направлениях (п.6.10 ПДД).

3) Ответ № 3. Переходить проезжую часть необходимо по пешеходному переходу, в том числе и после выхода из автобуса. Как правило, возле остановок общественного транспорта или близи их, в зависимости от условий дорожного движения, расположен пешеходный переход.

4) Ответ № 1. Дорожный знак 3.10 «Движение пешеходов запрещено» относится к группе запрещающих. Знак вводит ограничение на движение пешеходов. Действие знака распространяется только на ту сторону дороги, на которой он установлен (Приложение 1 к ПДД).

5) Ответ № 2. При дорожно-транспортном происшествии водитель обязан выполнить ряд действий, в том числе вызвать «Скорую медицинскую помощь» и сообщить о случившемся в ГИБДД. Задача

пешехода - настоять на выполнении этих требований во избежание других негативных последствий и для водителя, и для самого пешехода, а также объективной оценки причин случившегося.

б) Ответ № 2. Водители транспортных средств обязаны уступить дорогу пешеходам, переходящим проезжую часть по нерегулируемому пешеходному переходу (п.14.1 ПДД). В указанной ситуации водитель легкового автомобиля и пешеход не видят друг друга из-за проезжающего грузовика, обзор ограничен. Пешеход должен начинать переход только после того, как убедится, что переход для него безопасен (п.4.5 ПДД).

БИЛЕТ № 3

1) Ответ № 1. Пешеходы должны идти по обочине. Чтобы контролировать ситуацию, безопаснее двигаться навстречу транспортным средствам, как это предписывают Правила при ходьбе по краю проезжей части (п.4.1 ПДД), т.е. по левой обочине.

2) Ответ № 2. Сочетание красного и желтого сигналов запрещает движение и информирует о предстоящем включении зеленого (п.6.2 ПДД).

3) Ответ № 3. Пристегиваться ремнями безопасности при любой поездке – обязанность пассажира (п.5.1 ПДД).

4) Ответ № 1. Дорожный знак 6.4 «Место стоянки» относится к группе информационных. Знак указывает место для постановки транспортного средства на стоянку (Приложение 1 к ПДД).

5) Ответ № 3. Перед началом перехода дороги всегда важно остановиться именно на тротуаре, чтобы не оказаться задетым проезжающим транспортом. В рассмотренной ситуации пешеход рискует поскользнуться и1085 на снежном валу и оказаться под колесами автомобиля.

б) Ответ № 2. В этой ситуации есть опасность для пешехода: он видит только сам грузовой автомобиль и не замечает грузовой прицеп. Если пешеход сходит с тротуара сразу после проезда грузовика, то он может попасть под прицепом.

БИЛЕТ № 4

1) Ответ № 4. Управлять велосипедом при движении по дорогам разрешается лицам не моложе 14 лет (п.24.1 ПДД). Кроме того, велосипедист должен уметь управлять велосипедом, знать и выполнять правила дорожного движения.

2) Ответ № 2. При отсутствии тротуаров пешеход должен идти по обочине (п.4.1 ПДД).

3) Ответ № 2. Переходить дорогу разрешается по пешеходным переходам, при их отсутствии - на перекрестках по линии тротуаров и обочин (п.4.3 ПДД).

4) Ответ № 2. Дорожный знак 5.16 «Место остановки автобуса и (или) троллейбуса» относится к группе знаков особых предписаний. Знак указывает место для остановки перечисленных транспортных средств (Приложение 1 к ПДД).

5) Ответ № 1. Светофор с вызывным устройством работает с небольшой задержкой. Сделано это для того, чтобы на данном участке не скапливался транспорт. Поэтому после нажатия кнопки надо ждать переключения сигналов.

б) Ответ № 1. При пересечении проезжей части вне пешеходного перехода пешеходы не должны выходить из-за стоящего транспорта, не убедившись в отсутствии приближающихся транспортных средств (п.4.5 ПДД). Поэтому начинать переход следует после того, как автобус отойдет, и дорога будет просматриваться в обе стороны, чтобы пешеход имел возможность оценить дорожную ситуацию.

БИЛЕТ № 5

1) Ответ № 1. Перевозка детей до 12 лет на переднем сиденье легкового автомобиля запрещена (п.22.9 ПДД).

2) Ответ № 3. Безопасный переход загородной дороги возможен только в случае, когда автобус отойдет, чтобы проезжая часть просматривалась в обоих направлениях.

3) Ответ № 3. Когда руки регулировщика опущены, со стороны левого и правого бока пешеходам разрешено переходить проезжую часть (п.6.10 ПДД).

4) Ответ № 2. Дорожные знаки 6.6 «Подземный пешеходный переход» (А), 5.19.2 «Пешеходный переход» (Б), 6.7 «Надземный пешеходный переход» (Г). Знаки указывают места перехода проезжей части (Приложение 1 к ПДД). Знак 4.5 «Пешеходная дорожка» (В) не обозначает место перехода дороги.

5) Ответ № 1. Распространенная ошибка пешеходов – опасаться транспорта, который движется вперед, и не обращать внимания на идущий задним ходом. Опасен любой транспорт! При движении транспорта задним ходом у водителя ограничен обзор.

б) Ответ № 2. Водитель легкового автомобиля действительно нарушает. Однако пешеход всегда имеет возможность самостоятельно убедиться в своей безопасности и не полагаться на действия только водителей.

БИЛЕТ № 6

1) Ответ № 3. При отсутствии в зоне видимости пешеходного перехода переходить, в первую очередь, можно на перекрестках по линии тротуаров и обочин (п.4.3 ПДД).

2) Ответ № 2. При наличии пешеходного светофора пешеход обязан руководствоваться только его сигналами, независимо от сигналов транспортного светофора.

3) Ответ № 2. На всех автомобилях для обозначения движения задним ходом предусмотрены световые приборы с огнями белого цвета.

4) Ответ № 1. Дорожный знак 1.2 «Железнодорожный переезд без шлагбаума» относится к группе предупреждающих. Знак предупреждает о приближении к опасному участку, где расположен такой переезд (Приложение 1 к ПДД).

5) Ответ № 2. Пешеходам выходить на проезжую часть для посадки в транспортное средство разрешается лишь после его остановки (п.4.8 ПДД).

б) Ответ № 2. Пройдя половину пути, пешеход начинает наблюдать только за транспортом, приближающимся справа, и, пропуская идущий автомобиль, может невольно сделать шаг назад. Это и является причиной аварий: пешехода сбивает транспорт, приближающийся слева, за спиной.

БИЛЕТ № 7

1) Ответ № 1. Да, это опасно. Человек бежит медленнее транспорта. Чтобы остановить транспорт, идущий на минимальной скорости, потребуется несколько метров. Поэтому переход перед ним опасен. Никакое транспортное средство мгновенно не остановится. Нельзя даже на пешеходных переходах выходить на проезжую часть перед идущим близко автомобилем.

2) Ответ № 2. Остановочный карман предназначен для заезда маршрутного транспорта, чтобы он при остановке не мешал другим проезжающим автомобилям.

3) Ответ № 3. Стоящий транспорт закрывает обзор пешеходу. Если обходить трамвай сзади пешеход рискует попасть под встречный трамвай. Обходя трамвай спереди, можно попасть под автомобили, объезжающие этот транспорт.

4) Ответ № 3. Дорожный знак 1.5 «Пересечение с трамвайной линией» относится к группе предупреждающих. Знак предупреждает о приближении к опасному участку, где расположено данное пересечение (Приложение 1 к ПДД).

5) Ответ № 1. Перед началом движения водитель обязан подавать сигналы световыми указателями поворота (п.8.1 ПДД).

6) Ответ № 2. Дорожный знак 1.23 «Дети» относится к группе предупреждающих. Знак предупреждает водителей о приближении к участку вблизи детского учреждения (школа, оздоровительные лагеря и т.п.). Знак не разрешает переход дороги. (Приложение 1 к ПДД).

БИЛЕТ № 8

1) Ответ № 3. Выдержка из Правил дорожного движения РФ пункт 1.2.: «Дорога включает в себя одну или несколько проезжих частей, а также трамвайные пути, тротуары, обочины и разделительные полосы при их наличии».

2) Ответ № 1. На дорогах с односторонним движением транспорт движется только в одном, указанном дорожными знаками, направлении. Встречное движение отсутствует. Для движения транспорта может быть предусмотрено несколько полос.

3) Ответ № 2. Прислоняться к двери любого движущегося транспортного средства опасно. По различным причинам дверь может открыться во время движения (например, была неплотно закрыта или механизм запираения изношен), и падение пассажира будет неизбежно.

4) Ответ № 2. Данная разметка имеет номер 1.15 (см. ПДД РФ) и обозначает место, где велосипедная дорожка пересекает проезжую часть.

5) Ответ № 1. При переходе дороги возле припаркованных автомобилей пешеход рискует оказаться на полосе движения транспортного средства, водитель которого не видит пешехода заранее. Пешеход также не может увидеть приближающийся транспорт: обзор ограничен.

6) Ответ № 1. Выходить из-за передней части автобуса нельзя, обзор ограничен. Пешеход сразу окажется под колесами идущих автомобилей.

Билет № 9

1) **Ответ № 2.** При двустороннем движении транспортные средства движутся навстречу. Движение может осуществляться по нескольким полосам.

2) **Ответ № 3.** Тротуар от проезжей части отделяют бордюрным камнем (бордюром).

3) **Ответ № 1.** Стоящий автомобиль скрывает за собой часть дороги, ограничивает обзор. Пешеход не видит, что происходит на данном участке.

4) **Ответ № 1.** Дорожный знак 7.2 «Больница» относится к группе сервиса. Знак информирует о расположении рядом здания больницы (Приложение 1 к ПДД).

5) **Ответ № 1.** Пешеход имеет право переходить дорогу на перекрестках по линии тротуаров и обочин. В этом случае он видит не только автомобили, движущиеся по пересекаемой дороге, но и транспорт, выезжающий с другой улицы.

6) **Ответ № 2.** На рисунке изображен знак 5.7.1. (ПДД РФ) «Выезд на дорогу с односторонним движением» Дорога с односторонним движением – это дорога или проезжая часть, по которой движение транспортных средств по всей ширине осуществляется в одном направлении. Соответственно пешеход на данном рисунке может ожидать появление автомобиля только с левой стороны.

БИЛЕТ № 10

1) **Ответ № 1.** Пешеходный переход – это участок проезжей части, выделенный для движения пешеходов через дорогу (п.1.2 ПДД).

2) **Ответ № 3.** Входящие и выходящие пассажиры не должны создавать помех друг другу, чтобы не попасть под колесо автобуса или упасть на дорогу. Поэтому безопаснее входить через задние, а выходить через передние двери.

3) **Ответ № 3.** Включенные задние фонари белого цвета информируют о том, что автомобиль движется задним ходом.

4) **Ответ № 2.** Дорожный знак 3.17.2 «Опасность» относится к группе запрещающих знаков. Он запрещает дальнейшее движение всех без исключения транспортных средств в связи с дорожно-транспортным происшествием, аварией, пожаром или другой опасностью. Дорожный знак 1.33 «Прочие опасности» относится к группе предупреждающих. Знак предупреждает об участке дороги, на котором имеются опасности, не предусмотренные другими предупреждающими знаками (Приложение 1 к ПДД).

5) **Ответ № 2.** Переход дороги может быть безопасен только в том случае, если пешеход не спешит и внимательно смотрит по сторонам.

6) **Ответ № 2.** При таком положении регулировщика пешеходам разрешено переходить дорогу, но только за его спиной (п.6.10 ПДД).

БИЛЕТ № 11

1) **Ответ № 2.** Автомобили специальных служб оборудованы проблесковым маячком синего цвета (п.3.1 ПДД).

2) Ответ № 4. Взрослым, держащих на руках маленьких детей, пожилым людям, инвалидам тяжело стоять в общественном транспорте. Необходимость уступить им место – обязанность каждого вежливого человека.

3) Ответ № 2. Пешеход – лицо, находящееся вне транспортного средства на дороге и не производящее на ней работу (п.1.2 ПДД). Пешеходом может быть человек любого возраста.

4) Ответ № 2. Дорожный знак 4.5 «Пешеходная дорожка» относится к группе предписывающих. Знак разрешает движение только пешеходам (Приложение 1 к ПДД). Для движения пешеходов выделяется либо вся проезжая часть, либо определенная полоса (пешеходная зона).

5) Ответ № 2. При переходе дороги пешеход в целях своей безопасности должен смотреть по сторонам, наблюдать за тем, что происходит на дороге, пропускают ли его водители.

6) Ответ № 1. Группы детей разрешается водить только по тротуарам (п.4.2 ПДД).

БИЛЕТ № 12

1) Ответ № 1. Автомобиль с проблесковым маячком желтого цвета не относится к автомобилям специальных служб. Водитель такого автомобиля обязан выполнять все правила движения, в том числе и пропускать пешеходов на переходе (п.3.4 ПДД).

2) Ответ № 2. Необходимо дождаться полной остановки автобуса (п.4.8 ПДД). Только в этом случае выход из транспорта будет безопасен.

3) Ответ № 1. Человек, передвигающийся верхом на лошади, является участником дорожного движения и обязан соблюдать все правила (п.24.1 ПДД).

4) Ответ № 2. Дорожный знак 4.4 «Велосипедная дорожка» относится к группе предписывающих. Знак разрешает движение велосипедов и мопедов. При отсутствии тротуара или пешеходной дорожки пешеходы могут двигаться по велосипедной дорожке (Приложение 1 к ПДД).

5) Ответ № 3. В случае невозможности двигаться по тротуару пешеход может идти по обочине (п.4.1 ПДД).

6) Ответ № 2. Группы детей разрешается водить только в светлое время суток (п.4.2 ПДД).

БИЛЕТ № 13

1) Ответ № 3. Транспортные средства в сопровождении автомобиля ГИБДД с включенными проблесковыми маячками синего и красного цвета и специальным звуковым сигналом пользуются преимущественным правом в движении (п.3.1 ПДД). Пешеход должен пропустить всю колонну (п.4.7 ПДД).

2) Ответ № 1. Пассажир, прежде чем выйти на проезжую часть из трамвая, должен сам убедиться, что это будет для него безопасно, и водители автомобилей его пропускают.

3) Ответ № 2. Лица, производящие работы на проезжей части, не являются участниками движения (п.1.2 ПДД).

4) Ответ № 1. Дорожный знак 3.9. «Движение на велосипедах запрещено»

относится к группе запрещающих. Знак запрещает движение велосипедов и мопедов (Приложение 1 к ПДД).

5) Ответ № 1. Пешеходу безопаснее идти по левой обочине навстречу транспорту (п.4.1 ПДД). Пешеход в этой ситуации видит приближающийся к нему транспорт, быстрее среагирует на опасность.

6) Ответ № 2. В руках у сопровождающих должны быть красные флажки (п.4.2 ПДД).

БИЛЕТ № 14

1) Ответ № 3. Участники дорожного движения должны уступить дорогу транспортному средству с включенным проблесковым маячком и специальным звуковым сигналом (п.3.2, 4.7 ПДД).

2) Ответ Рисунок А. Согласно Пункту 24.2. ПДД РФ «Велосипедисты должны двигаться только по крайней правой полосе в один ряд».

3) Ответ № 3. К участникам дорожного движения относятся водители, пассажиры и пешеходы (п.1.2 ПДД).

4) Ответ № 1. Дорожный знак 4.3 называется «Круговое движение», относится к группе предписывающих (Приложение 1 к ПДД).

5) Ответ № 2. На рисунке изображен знак 5.7.1. (ПДД РФ) «Выезд на дорогу с односторонним движением»

6) Ответ № 2. Сопровождающие должны находиться спереди и сзади колонны с левой стороны (п.4.2 ПДД).

БИЛЕТ № 15

1) Ответ № 1. На автомобилях ГИБДД (Госавтоинспекции) и некоторых других спецслужб дополнительно к проблесковым маячку синего цвета может быть включен проблесковый маячок красного цвета (п.3.1 ПДД).

2) Ответ № 2. Пассажир может выходить из автобуса только на остановке. При выходе на светофоре можно попасть под проезжающий рядом автомобиль.

3) Ответ № 2. Пассажиры полноправные участники дорожного движения и сами должны соблюдать правила дорожного движения (раздел 5 и 22 ПДД).

4) Ответ № 1. Дорожный знак 3.26 «Подача звукового сигнала запрещена» относится к группе запрещающих. Знак запрещает пользоваться звуковыми сигналами, кроме случаев, когда сигнал подается для предотвращения дорожно-транспортного происшествия (Приложение 1 к ПДД).

5) Ответ № 3. Стоящий грузовой автомобиль закрывает пешеходу обзор. Водители проезжающего транспорта также не видят пешехода. Поэтому нельзя выходить из-за грузовика на проезжую часть.

6) Ответ № 1. Пешая колонна детей подчиняется общим правилам для пешеходов. Пересекать дорогу можно по любому пешеходному переходу с соблюдением требований безопасности (п.4.3 ПДД).

БИЛЕТ № 16

1) Ответ № 1. Дети-пешеходы в несколько раз чаще становятся участниками происшествий, чем дети-пассажиры или дети-велосипедисты.

2) Ответ № 1. Пешеходный переход – участок проезжей части, обозначенный знаками 5.19.1, 5.19.2 «Пешеходный переход» и (или) разметкой 1.14.1 и 1.14.2 («зебра») и выделенный для движения пешеходов через проезжую часть.

3) Ответ № 3. Пассажирам запрещается стоять в кузове грузового автомобиля во время движения (п.5.2 ПДД).

4) Ответ № 3. Дорожный знак 1.30 «Низколетящие самолеты» относится к группе предупреждающих. Знак предупреждает, что над участком дороги самолеты пролетают очень низко, как правило, это взлетающие или заходящие на посадку самолеты (Приложение 1 к ПДД).

5) Ответ № 1. На рисунке изображен знак 5.2 (ПДД) «Жилая зона»



Согласно Пункту 17.1. ПДД в жилой зоне пешеходы имеют преимущество перед транспортными средствами.

6) Ответ № 3. При организованной перевозке группы детей их количество не должно превышать количества оборудованных для сиденья мест (п.22.3 ПДД).

БИЛЕТ № 17

1) Ответ № 2. Самое распространенное нарушение, которое приводит к наезду транспорта на пешеходов, - переход дороги в неустановленном для этого месте.

2) Ответ № 3. На данном участке газон является разделительной полосой, так как разделяет левую и правую сторону дороги. Пешеходам не разрешается переходить проезжую часть в таких местах (п.4.3 ПДД).

3) Ответ № 1. Перевозка пассажиров на грузовом прицепе запрещена (п.22.8 ПДД).

4) Ответ № 2. Дорожный знак 1.1 «Железнодорожный переезд со шлагбаумом» относится к группе предупреждающих. Знак предупреждает о приближении к именно такому переезду (Приложение 1 к ПДД).

5) Ответ № 3. Учащиеся 3-5 классов, как лица, не достигшие 14 лет, не имеют права выезжать на дороги общего пользования. Им разрешено кататься в парках и на других закрытых территориях.

6) Ответ № 3. При организованной перевозке группы детей на автобусе крепится опознавательный знак (В) «Перевозка детей» (п.22.6 ПДД).

БИЛЕТ № 18

1) Ответ № 2. Дорожно-транспортные происшествия с участием детей чаще происходят на знакомой для них территории. Вдали от дома и школы дети становятся более внимательными, осторожными. На знакомой территории они ведут себя более свободно, пренебрегая элементарными правилами.

2) Ответ № 1. Пешеходный переход – это участок, обозначенный знаками и (или) разметкой «зебра». При отсутствии разметки ширина пешеходного перехода определяется расстоянием между знаками (п.1.2 ПДД). Пешеходу разрешается переходить только между знаками.

3) Ответ № 2. Согласно Пункту 6.10. ПДД поднятая вверх рука регулировщика обозначает движение всех транспортных средств и пешеходов запрещено во всех направлениях.

4) Ответ № 3. Дорожный знак (В) 7.11 «Место отдыха» относится к группе сервиса. Знак предупреждает о расположении соответствующего объекта (Приложение 1 к ПДД).

5) Ответ № 1. Человек, катающийся на роликовых коньках, не является водителем (п.1.2 ПДД). Он обязан подчиняться правилам дорожного движения для пешеходов.

6) Ответ № 1. При организованной перевозке группы детей взрослые сопровождающие должны находиться на передней и задней площадке автобуса, т.е. возле выходов (п.22.6 ПДД).

БИЛЕТ № 19

1) Ответ № 1. В летний период количество дорожно-транспортных происшествий с участием детей увеличивается. Погода позволяет детям больше времени проводить на улице – бегать, играть, кататься на велосипедах, роликах, отдыхать на природе...

Поэтому и риск стать участником происшествия значительно выше, чем в течение учебного года.

2) Ответ № 2. Разметка 1.14.1, обозначающая место перехода дороги, «зебра». (Приложение 2 к ПДД).

3) Ответ № 1. Перевозка пассажиров на грузовом прицепе запрещена (п.22.8 ПДД).

4) Ответ № 2. Дорожный знак 7.12 «Пост дорожно-патрульной службы» относится к группе сервиса. Знак предупреждает о расположении соответствующего объекта (Приложение 1 к ПДД).

5) Ответ № 3. Перевозка пассажиров разрешается велосипедисту, достигшему 14-летнего возраста. При этом он может перевести только ребенка в возрасте до 7 лет на дополнительном сиденье, оборудованном надежными подножками (п.24.3 ПДД).

6) Ответ № 2. При организованной перевозке группы детей посадка и высадка детей осуществляется под руководством взрослых сопровождающих лиц (в соответствии со специальными правилами, действующими на территории Томской области, и п. 22.6 ПДД).

БИЛЕТ № 20

1) Ответ № 3. В вечернее время риск стать участником дорожно-транспортного происшествия увеличивается. Ухудшаются условия движения (снижение видимости, особенно в осенне-зимнее время). Пешеходы и водители более уставшие, реакция их снижается. В вечернее время на улицах увеличивается и количество пешеходов, и количество транспорта.

2) Ответ № 1. Переход дороги на участках с разделительной полосой (бетонное ограждение, газон и т.п.) запрещен (п.4.3 ПДД).

3) Ответ № 3. Перевозка пассажиров в кузове грузового мотоцикла, мотороллера запрещена (п.22.8 ПДД).

4) Ответ № 2. Дорожный знак (Б) 7.8 «Питьевая вода» относится к группе

сервиса. Знак предупреждает о расположении соответствующего объекта (Приложение 1 к ПДД).

5) Ответ № 1. Багажник велосипеда используется для перевозки грузов, перевозка пассажиров на багажнике запрещена (п.24.3 ПДД).

6) Ответ № 4. При организованной перевозке группы детей детям запрещается открывать окна, выбрасывать мусор в форточки, ходить по салону (в соответствии со специальными правилами, действующими на территории Томской области, и п.22.6 ПДД).